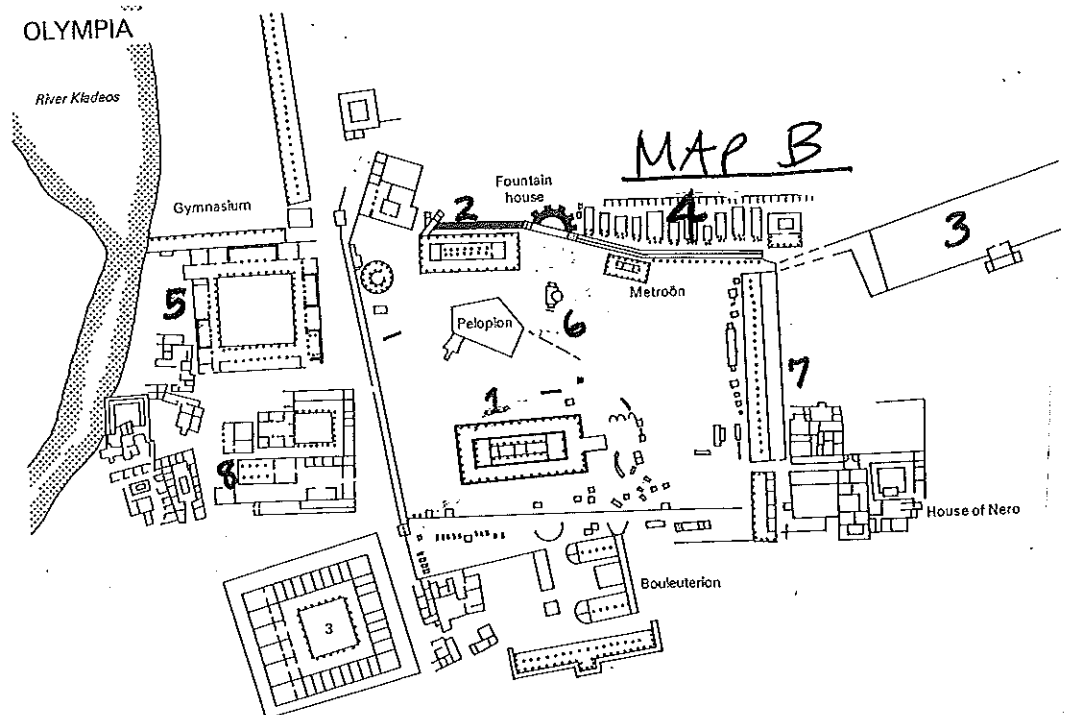
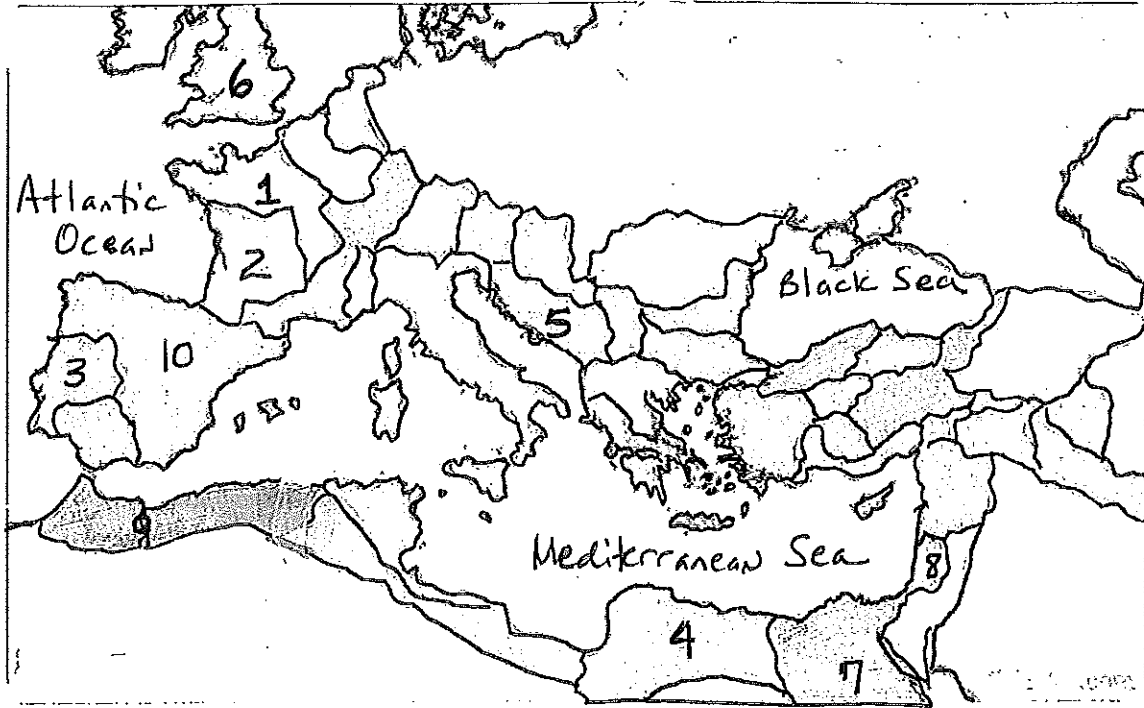
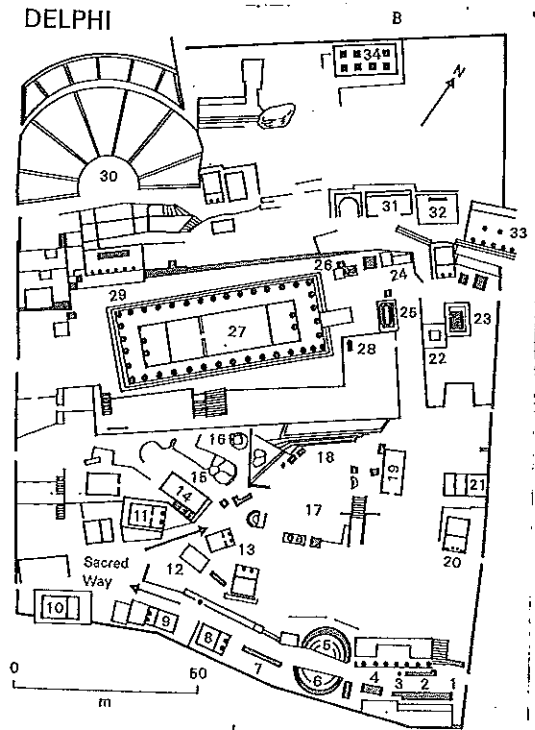


MAP A

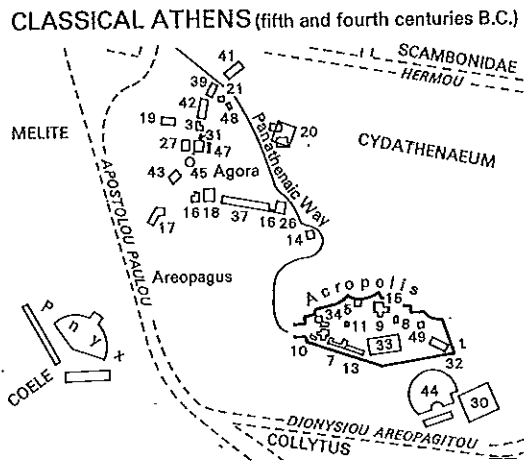




MAP C



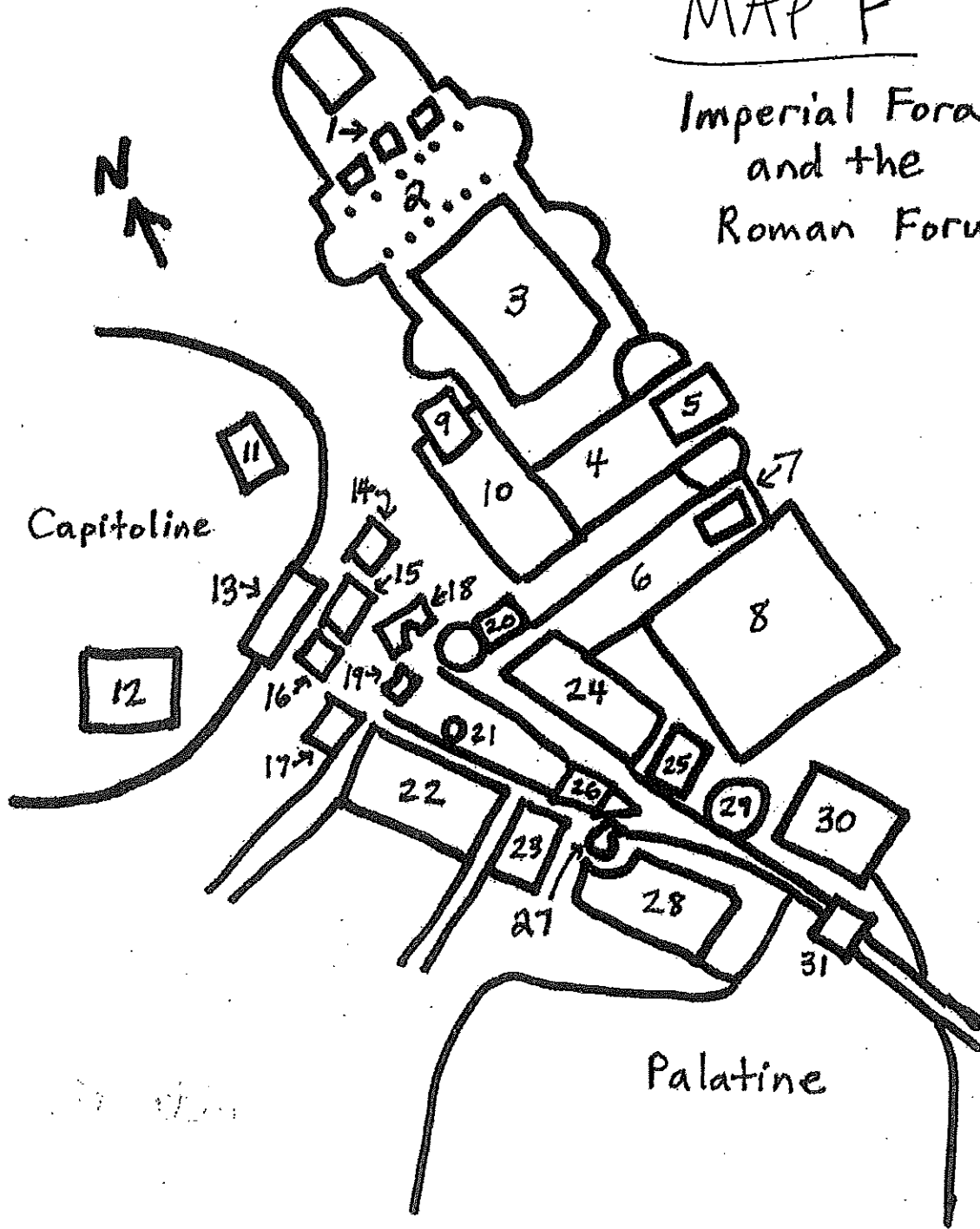
MAP D



MAP E

MAP F

Imperial Fora and the Roman Forum



2013 GJCL Geography Exam

I. Identify the following places marked by the numbers on Map A

- | | | | | |
|-----|---------------|---------------|--------------|-----------------|
| 1. | a. Knossos | b. Athens | c. Delos | d. Naxos |
| 2. | a. Athens | b. Corinth | c. Olympia | d. Delos |
| 3. | a. Lemnos | b. Rhodes | c. Troy | d. Knossos |
| 4. | a. Athens | b. Samothrace | c. Olympia | d. Dodona |
| 5. | a. Delphi | b. Dodona | c. Euboea | d. Boeotia |
| 6. | a. Corinth | b. Epidaurus | c. Delphi | d. Naxos |
| 7. | a. Iolchus | b. Delphi | c. Pytho | d. Olympia |
| 8. | a. Eleusis | b. Corinth | c. Nemea | d. Mt. Olympus |
| 9. | a. Delos | b. Athens | c. Cyprus | d. Rhodes |
| 10. | a. Eleusis | b. Corinth | c. Delphi | d. Epidaurus |
| 11. | a. Sparta | b. Olympia | c. Athens | d. Rhodes |
| 12. | a. Sparta | b. Ithaca | c. Rhodes | d. Delos |
| 13. | a. Troy | b. Byzantium | c. Delphi | d. Samothrace |
| 14. | a. Asia Minor | b. Thrace | c. Thessaly | d. Attica |
| 15. | a. Delos | b. Naxos | c. Skyros | d. Rhodes |
| 16. | a. Lesbos | b. Lemnos | c. Naxos | d. Rhodes |
| 17. | a. Delos | b. Naxos | c. Cyprus | d. Lesbos |
| 18. | a. Rhodes | b. Cos | c. Delos | d. Naxos |
| 19. | a. Chios | b. Delos | c. Naxos | d. Skyros |
| 20. | a. Troy | b. Jerusalem | c. Epidaurus | d. Ephesus |
| 21. | a. Macedonia | b. Thrace | c. Thessaly | d. Attica |
| 22. | a. Samothrace | b. Naxos | c. Thessaly | d. Chios |
| 23. | a. Thrace | b. Thessaly | c. Byzantium | d. Rhodes |
| 24. | a. Attica | b. Rhodes | c. Thessaly | d. Peloponnesus |
| 25. | a. Thessaly | b. Thrace | c. Cyprus | d. Peloponnesus |

II. Identify the following areas/buildings at Olympia, marked by numbers on map B

- | | | | | |
|--------------|-------------------|-------------------------|-------------------|--------------|
| 26. Number 1 | a. Temple of Zeus | b. Temple of Hera | c. Altar to Zeus | d. Palaestra |
| 27. Number 2 | a. Temple of Hera | b. Temple of Pelops | c. Temple of Zeus | d. Gymnasium |
| 28. Number 3 | a. Temple of Zeus | b. Stadium | c. Palaestra | d. Echo Stoa |
| 29. Number 4 | a. Stadium | b. Treasuries | c. Temple of Hera | d. Pelopeion |
| 30. Number 5 | a. Palaestra | b. Gymnasium | c. Treasuries | d. Stadium |
| 31. Number 6 | a. Altar to Zeus | b. Hill of Kronos | c. Gymnasium | d. Stadium |
| 32. Number 7 | a. Treasuries | b. Altar to Zeus | c. Echo Stoa | d. Stadium |
| 33. Number 8 | a. Fountain House | b. Workshop of Pheidias | c. Echo Stoa | d. Palaestra |

III. Identify the following areas of the Roman Empire, marked by numbers on Map C.

- | | | | | |
|--------------|----------------|--------------|-------------|-------------|
| 34. Number 1 | a. Lugdunensis | b. Aquitania | c. Belgica | d. Germania |
| 35. Number 2 | a. Germania | b. Aquitania | c. Hispania | d. Raetia |
| 36. Number 3 | a. Lusitania | b. Corsica | c. Baetia | d. Pontus |
| 37. Number 4 | | | | |

- | | | | | |
|---------------|---------------|-------------|--------------|-------------|
| | a. Cyrenae | b. Galatia | c. Dalmatia | d. Aegyptus |
| 38. Number 5 | a. Dalmatia | b. Pontus | c. Gallia | d. Cyprus |
| 39. Number 6 | a. Dacia | b. Belgica | c. Britannia | d. Baetia |
| 40. Number 7 | a. Pontus | b. Aegyptus | c. Bithynia | d. Cicilia |
| 41. Number 8 | a. Cicilia | b. Judea | c. Dalmatia | d. Numidia |
| 42. Number 9 | a. Mauretania | b. Numidia | c. Baetia | d. Raetia |
| 43. Number 10 | a. Hispania | b. Gallia | c. Illyrium | d. Numidia |

IV. Identify the following areas/buildings at Delphi, marked by numbers on Map D.

- | | | | | |
|---------------|------------------------|------------------------|----------------------|--------------|
| 44. Number 27 | a. Temple of Dionysus | b. Temple of Apollo | c. Temple of Hera | d. Palaestra |
| 45. Number 30 | a. Stadium | b. Theater | c. Palaestra | d. Gymnasium |
| 46. Number 16 | a. Column of Naxians | b. Rock of Sibyl | c. Altar to Zeus | d. Palaestra |
| 47. Number 9 | a. Treasury of Athens | b. Treasury of Siphnos | c. Fountain House | d. Gymnasium |
| 48. Number 6 | a. Epigoni | b. Kings of Argos | c. Column of Naxians | d. Halos |
| 49. Number 18 | a. Stoa of Attalus | b. Stoa of Athenians | c. Echo Stoa | d. Gymnasium |
| 50. Number 11 | a. Treasury of Athens | b. Treasury of Naxos | c. Fountain House | d. Palaestra |
| 51. Number 5 | a. Kings of Argos | b. Charioteers | c. Kings of Athens | d. Epigoni |
| 52. Number 17 | a. Halos | b. Sphinx | c. Altar of Apollo | d. Theater |
| 53. Number 15 | a. Sphinx | b. Rock of the Sibyl | c. Palaestra | d. Gymnasium |
| 54. Number 25 | a. Altar of the Chians | b. Altar to Zeus | c. Sphinx | d. Theater |
| 55. Number 33 | a. Stoa of Attalus | b. Stoa of Athenians | c. Stoa of Zeus | d. Fountains |

V. Identify the following buildings in Athens, marked by numbers on Map E.

- | | | | | |
|--------------------------------|-------|-------|-------|-------|
| 56. Parthenon | a. 10 | b. 33 | c. 18 | d. 15 |
| 57. Eleusinium | a. 14 | b. 10 | c. 18 | d. 33 |
| 58. Statue of Athena Promachus | a. 45 | b. 11 | c. 18 | d. 17 |
| 59. Erechtheum | a. 30 | b. 10 | c. 15 | d. 33 |
| 60. Theater of Dionysus | a. 44 | b. 30 | c. 33 | d. 11 |
| 61. House of Arrhephoroi | a. 49 | b. 10 | c. 5 | d. 30 |
| 62. Temple of Athena Nike | a. 10 | b. 15 | c. 33 | d. 11 |
| 63. Fountain Houses | | | | |

- | | | | | |
|------------------|-------|-------|-------|-------|
| | a. 16 | b. 30 | c. 20 | d. 18 |
| 64. South Stoa | a. 17 | b. 37 | c. 47 | d. 30 |
| 65. Stoa of Zeus | a. 20 | b. 42 | c. 47 | d. 17 |

VI. Identify the following buildings/areas in the Roman fora, marked by numbers on Map F

- | | | | | |
|------------------------------|-------|-------|-------|-------|
| 66. Temple of Vesta | a. 28 | b. 27 | c. 17 | d. 22 |
| 67. Forum of Augustus | a. 10 | b. 3 | c. 30 | d. 4 |
| 68. Forum of Trajan | a. 8 | b. 3 | c. 6 | d. 12 |
| 69. Temple of Castor | a. 23 | b. 11 | c. 8 | d. 26 |
| 70. House of Vestal Virgins | a. 28 | b. 8 | c. 6 | d. 22 |
| 71. Temple of Mars Ultor | a. 5 | b. 8 | c. 9 | d. 24 |
| 72. Curia Hostilia | a. 20 | b. 9 | c. 12 | d. 28 |
| 73. Forum of Julius Caesar | a. 10 | b. 8 | c. 21 | d. 15 |
| 74. Temple of Venus Genetrix | a. 2 | b. 9 | c. 6 | d. 8 |
| 75. Basilica Julia | a. 28 | b. 22 | c. 8 | d. 30 |

VII. Choose the ancient name of each modern city

- | | | | | |
|-----------------|----------------|--------------------|--------------|--------------|
| 76. Athens | a. Athena | b. Athenae | c. Athenia | d. Attica |
| 77. London | a. Europa | b. Londinium | c. Elboracum | d. Plataea |
| 78. Avignon | a. Avenio | b. Avigno | c. Avegnona | d. Aventum |
| 79. Bath | a. Aquae Sulis | b. Bathum | c. Bathae | d. Aventum |
| 80. York | a. Elboracum | b. Londonium | c. Turicum | d. Yorcum |
| 81. Paris | a. Lutetia | b. Parisum | c. Paridis | d. Letitia |
| 82. Cordoba | a. Corduba | b. Cordodo | c. Cordobu | d. Cors |
| 83. Vienna | a. Vindobona | b. Vindolanda | c. Ennis | d. Ennia |
| 84. Utrecht | a. Trajectum | b. Transectum | c. Unsectum | d. Rhena |
| 85. Baden Baden | a. Aventum | b. Aurelia Aquensi | c. Albinium | d. Badenorum |
| 86. Nice | a. Nicaea | b. Nimea | c. Nicarum | d. Nike |
| 87. Zurich | a. Tarentum | b. Turicum | c. Zurichum | d. Zana |
| 88. Basel | a. Basela | b. Basilea | c. Basilica | d. Basilia |
| 89. Naples | | | | |

Geography 2013 Exam Key

1.c
2.c
3.d
4.d
5.c
6.c
7.a
8.a
9.b
10.b
11.a
12.b
13.a
14.a
15.c
16.b
17.d
18.a
19.a
20.d
21.a
22.a
23.a
24.d
25.a
26.a
27.a
28.b
29.b
30.a
31.a
32.c
33.b
34.a
35.b
36.a
37.a
38.a
39.c
40.b
41.b
42.a
43.a
44.b
45.b
46.a
47.b
48.a
49.b
50.a
51.a

52.a
53.b
54.a
55.a
56.b
57.a
58.b
59.c
60.a
61.c
62.a
63.a
64.b
65.b
66.b
67.d
68.b
69.a
70.a
71.a
72.a
73.a
74.b
75.b
76.b
77.b
78.a
79.a
80.a
81.a
82.a
83.a
84.a
85.b
86.a
87.b
88.b
89.b
90.a
91.d
92.a
93.c
94.b
95.d
96.d
97.b
98.c
99.b
100.d